

LIÇÃO 2: ORIENTANDO O MAPA


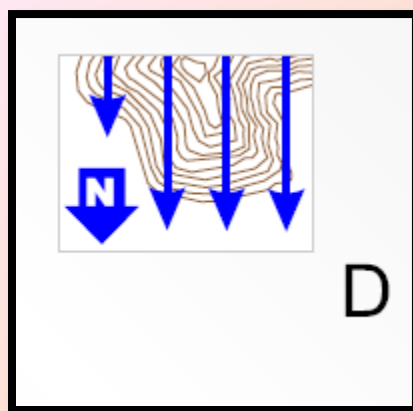
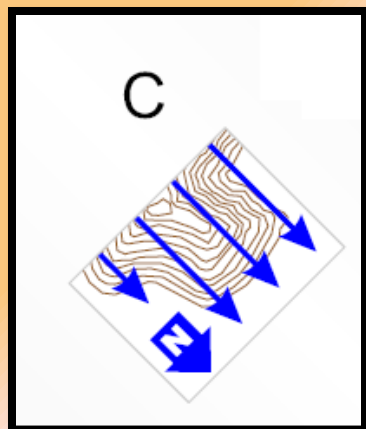
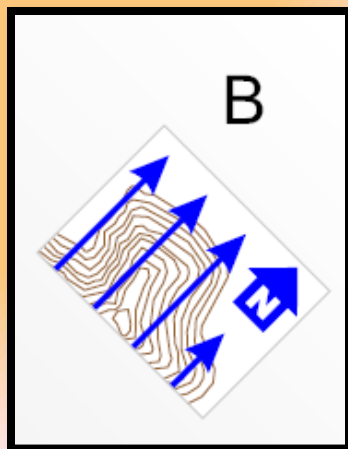
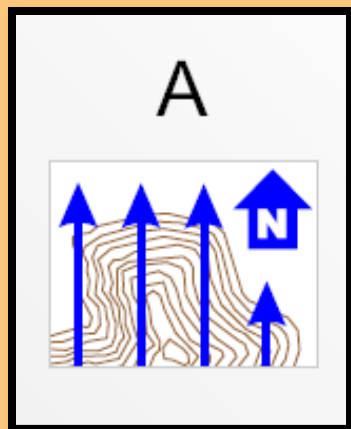
‘Orientar o mapa’ significa colocá-lo na posição em que ele está alinhado com o terreno. Se o mapa não estiver orientado, você provavelmente correrá na direção errada.

A maneira mais fácil de orientar um mapa é usar uma BÚSSOLA. A ponta vermelha da agulha da bússola sempre aponta para o “Norte Magnético”. Assim, todos os mapas de Orientação (e os mapas em geral), possuem linhas paralelas e uma grande letra N, apontando para o Norte.

Deste modo, tudo que você tem que fazer é rodar o mapa até que haja coincidência entre as linhas de norte do mapa e a agulha da bússola.

- **Tarefa 1:** Identifique as linhas e a Letra N do ‘Norte Magnético’ do mapa que você tem sobre a mesa.
- **Tarefa 2:** Coloque a bússola sobre o mapa, e gire os dois até que a ponta vermelha da agulha aponte na mesma direção do Norte. Compare a posição do seu mapa com os mapas dos colegas ao seu redor.

Exercício 3: Se a agulha da bússola aponta na direção da figura, qual dos mapas está corretamente orientado?



Exercício 4: Se a agulha da bússola aponta na direção da figura, para ir do ponto de controle PC-1 para o ponto de controle PC-2, em qual direção eu devo correr?

